

Bildungsbereich Holz

Name: _____

Datum: _____

Bezeichnungen der Holzbearbeitungswerkzeuge

Schneiden Sie nachfolgende Begriffe aus und kleben Sie Diese in die Kästchen hinter den Bildern

Klüpfel

Feinsäge

Gestellsäge

Winkel

Schleifklötze

Schraubzwinge

Streichmaß

Schraubendreher

Raspel

Hobel

Klemmzwinde

Rückensäge

Gehrungssäge

Stecheisen

Feilenbürste

Schreinerhammer

Senker

Halbrundfeile

Vorstecher





Astlochbohrer

Bildungsbereich Holz

Name: _____

Datum: _____

Benennen Sie die verschiedenen Sägen






Bildungsbereich Holz

Name: _____

Datum: _____

Holzbearbeitungswerkzeuge






Bildungsbereich Holz

Name: _____

Datum: _____

Holzbearbeitungswerkzeuge






Bildungsbereich Holz

Name: _____

Datum: _____

Holzbearbeitungswerkzeuge





Bildungsbereich Holz

Name: _____

Datum: _____

Holzbearbeitungswerkzeuge

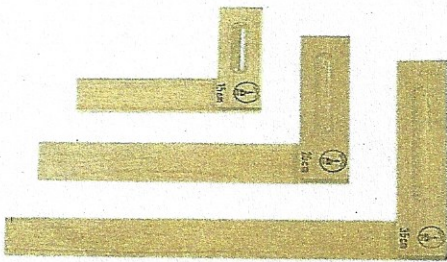




Bildungsbereich Holz

Name: _____

Datum: _____

Holzbearbeitungswerkzeuge



Bildungsbereich Holz

Name: _____

Datum: _____

Die Bestandteile der Hobelbank

Schneiden Sie die nachfolgenden Begriffe aus und ordnen Sie Diese den einzelnen Zahlen auf dem Arbeitsblatt zu:

zum Einspannen von Werkstücken

zum Einspannen von Werkstücken

Werkzeugablage

Unterbau der Arbeitsplatte

Arbeitsfläche

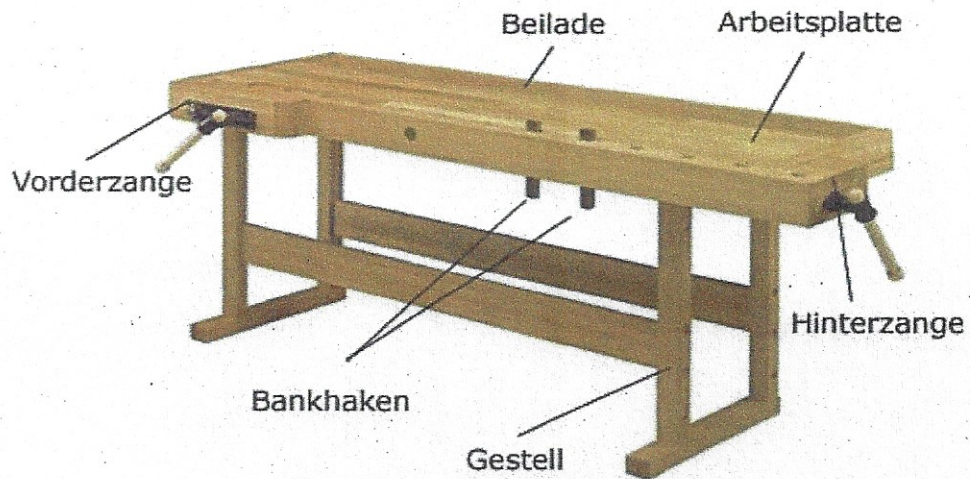
zum Einspannen auf der Arbeitsplatte

Bildungsbereich Holz

Name: _____

Datum: _____

Die Hobelbank



Verwendung der einzelnen Teile einer Hobelbank

1. Vorderzange

2. Hinterzange

3. Bankhaken

4. Gestell

5. Beilade

6. Arbeitsplatte
